



# Y chwarel dros amser




Edrychwch ar y tri llun isod o chwareli'r Mynydd Du yn ystod y 18fed, y 19eg a'r 20fed ganrif.

18fed ganrif.



19eg ganrif.



20fed ganrif.



Beth sydd yr un fath yn y lluniau?

Meddyliwch am:-

- Yr hyn mae chwarel yn ei wneud
- Sut maen nhw i gyd yn cyflawni'u pwrpas?
- Edrychwch ar y cynnyrch gwastraff sy'n dod o'r chwarel

Gorffennwch y frawddeg:

Byddai'n well gennyf fod wedi  
gweithio yn y chwarel yn ystod y/yr  
\_\_\_\_\_ ganrif  
oherwydd \_\_\_\_\_

Beth sy'n wahanol yn y lluniau?

Meddyliwch am:-

- Y bobl sy'n gweithio yn y chwarel
- Beth maen nhw'n ei ddefnyddio i gludo'r calch
- Faint o galch a gwastraff sy'n cael eu cynhyrchu